




(10p) b) Maria și Ana au împreună 18 ani. În urmă cu 3 ani, Maria era mai mare decât Ana cu 2 ani. Câți ani va avea Ana peste 5 ani? Rezolvă problema cu plan de rezolvare, utilizând metoda reprezentării grafice/ metoda figurativă!



(6p) c) Află cu cât este mai mic câtul numerelor 56 și 8 față de produsul numerelor 213 și 4 . Scrie rezolvarea într-un exercițiu!



(6p) d) Un teren în formă de pătrat are perimetrul egal cu produsul dintre 12 și predecesorul lui 21. Află care e lungimea laturii pătratului.



(5p) 6. Rezolvă cu atenție următoarele două exerciții cu fracții.

(2p) a) În grădina de zarzavat, desenată mai jos, s-au sădit castraveți pe $\frac{2}{7}$ din suprafața totală, iar restul suprafeței s-a cultivat cu varză.

Colorează partea din suprafața grădinii care este cultivată cu varză și scrie fracția corespunzătoare aici : —

--	--	--	--	--	--	--

(3p) b) Compară următoarele perechi de fracții. Scrie semnul de relație potrivit.

$$\frac{8}{8} \quad \frac{3}{8} \quad \frac{1}{5} \quad \frac{3}{5} \quad \frac{4}{6} \quad \frac{8}{6}$$

(8p) 7. Completează următoarele enunțuri :

Vara începe în 1 _____ și se termină în _____, având în total _____ zile.

A venit vacanța! Îmi place să mă joc cu mingea. Ea are forma corpului geometric numit _____. Voi merge la multe petreceri cu prietenii. Îmi voi pune pe cap un coif care seamănă cu corpul geometric numit _____. Voi merge și cu bunicul la piață. Dacă bunicul mă va întreba care sunt multiplii kilogramului îi voi spune că aceștia sunt : _____ și _____. Acum merg cu părinții la munte și avem de parcurs cu mașina mulți _____. Ca să treacă timpul mai repede recapitulez în gând care sunt submultipli litrului. Aceștia sunt : _____. Tata mă întreabă cum se numește poligonul cu patru laturi? Știu! Se numește _____.

Îmi cere să desenez pe o foaie cabana în care vom sta, folosind : un dreptunghi, un trapez și un pătrat. În plus pe cer aș vrea să desenez un nor folosind o linie _____. Nu am foaie și creion! Te rog ajută-mă tu și desenează în cadranul de mai jos. Multumesc!



Felicitări! Ai terminat testul!

